

XXV OLIMPIADA MATEMÀTICA
FASE PROVINCIAL - DÉNIA
10 de maig 2014 - PROVA D'EQUIPS
Nivell C - 3r CICLE PRIMÀRIA



EQUIP NÚMERO



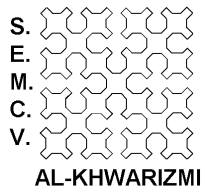
IMPORTA MOLT QUE EXPLIQUEU EL QUE FEU, EN TOTES LES PROVES

(A la plaça de la Constitució)

PROVA 1: UN AJUNTAMENT DE PEDRA

Quantes pedres s'han usat en total per a construir les cinc columnes que hi ha en l'Ajuntament de Dénia?





XXV OLIMPIADA MATEMÀTICA
FASE PROVINCIAL - DÉNIA
10 de maig 2014 - PROVA D'EQUIPS
Nivell C - 3r CICLE PRIMÀRIA



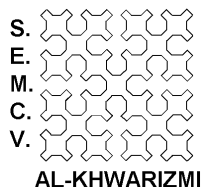
EQUIP NÚMERO

(A la plaça de la Constitució)

PROVA 2: QUADRATS I MÉS QUADRATS

Troba en la plaça aquets tros del paviment i calcula el nombre total de quadrats que veieu.





XXV OLIMPIADA MATEMÀTICA
FASE PROVINCIAL - DÉNIA
10 de maig 2014 - PROVA D'EQUIPS
Nivell C - 3r CICLE PRIMÀRIA




EQUIP NÚMERO

(A la plaça de la Constitució)

PROVA 3: GESPA EN L'AJUNTAMENT

La gespa que van plantar en l'Ajuntament és d'una varietat especial molt resistent. Les llavors d'aquesta varietat costen 24,3€/kg. Amb un quilogram d'aquestes llavors pots plantar 1m² de terreny. Quant van costar les llavors que es van plantar en la part que hi ha a dalt del tot de la plaça?



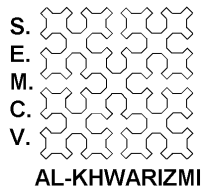


(Al castell)

PROVA 4: FA JA MOLT TEMPS

Aquesta placa va ser col·locada al novembre de 1984 per a commemorar uns fets que van ocórrer al novembre de 1708. Suposant que els fets van ocórrer l'1 de novembre i que la placa va ser col·locada el 30 de novembre, quants dies han passat des dels fets fins a la col·locació de la placa?





XXV OLIMPIADA MATEMÀTICA
FASE PROVINCIAL - DÉNIA
10 de maig 2014 - PROVA D'EQUIPS
Nivell C - 3r CICLE PRIMÀRIA



EQUIP NÚMERO

(Al castell)

PROVA 5: QUADRATS EN LA PLAÇA

Quants quadrats diferents podeu trobar en la plaça? Descriuiu on estan.

